



OEFENBOEKJE ROUTETECHNIEKEN

1. INTRODUCTIE

1. Wat neem je allemaal mee op een hike? Vul het onderstaande lijstje aan.

1. Wandelschoenen

2. Uniform

3. Flesje drinken

4. Brood

5. Wat lekkers

6. _____

7. _____

8. _____

9. EHBO-kit

2. AAN- EN AFMELDEN

1. Wat noem je allemaal op wanneer je je aan- en afmeldt bij een post?

1. _____

2. _____

3. _____

3. KAARTLEZEN

Gebruik voor deze vragen de kaart van de Marnewaard in de bijlage.

1. Waar is het noorden op de kaart? Zet hier een N neer.

2. Wat vind je op coördinaat 1145 / 0143 ?

3. Wat is het coördinaat van 't Seepeert?

4. Download een kaart van je eigen scoutinggebouw op <https://scoutingtools.nl/kaarten> en zoek het coördinaat van je eigen scoutinggebouw op.

5. Bestudeer ook eens de legenda en kijk wat voor soort wegen, terreinen en overige zaken je allemaal kunt onderscheiden op de kaart.

4. OLEAAT

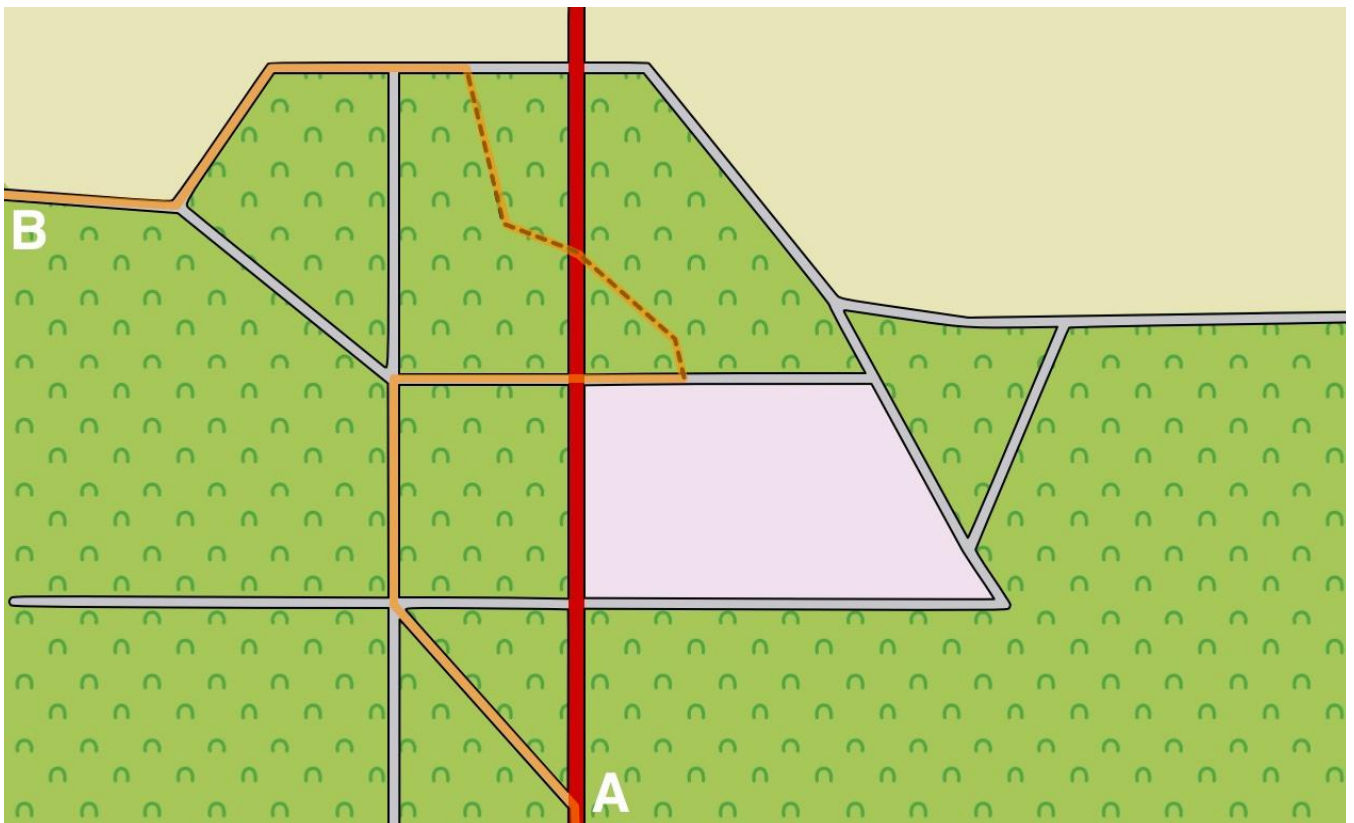
Gebruik voor deze vragen een kaart van de omgeving van je eigen scoutinggebouw.

1. Teken op een stuk doorzichtig plastic een zelf te bepalen route. Gebruik hiervoor bijvoorbeeld een permanent marker met dunne punt (CD pen)

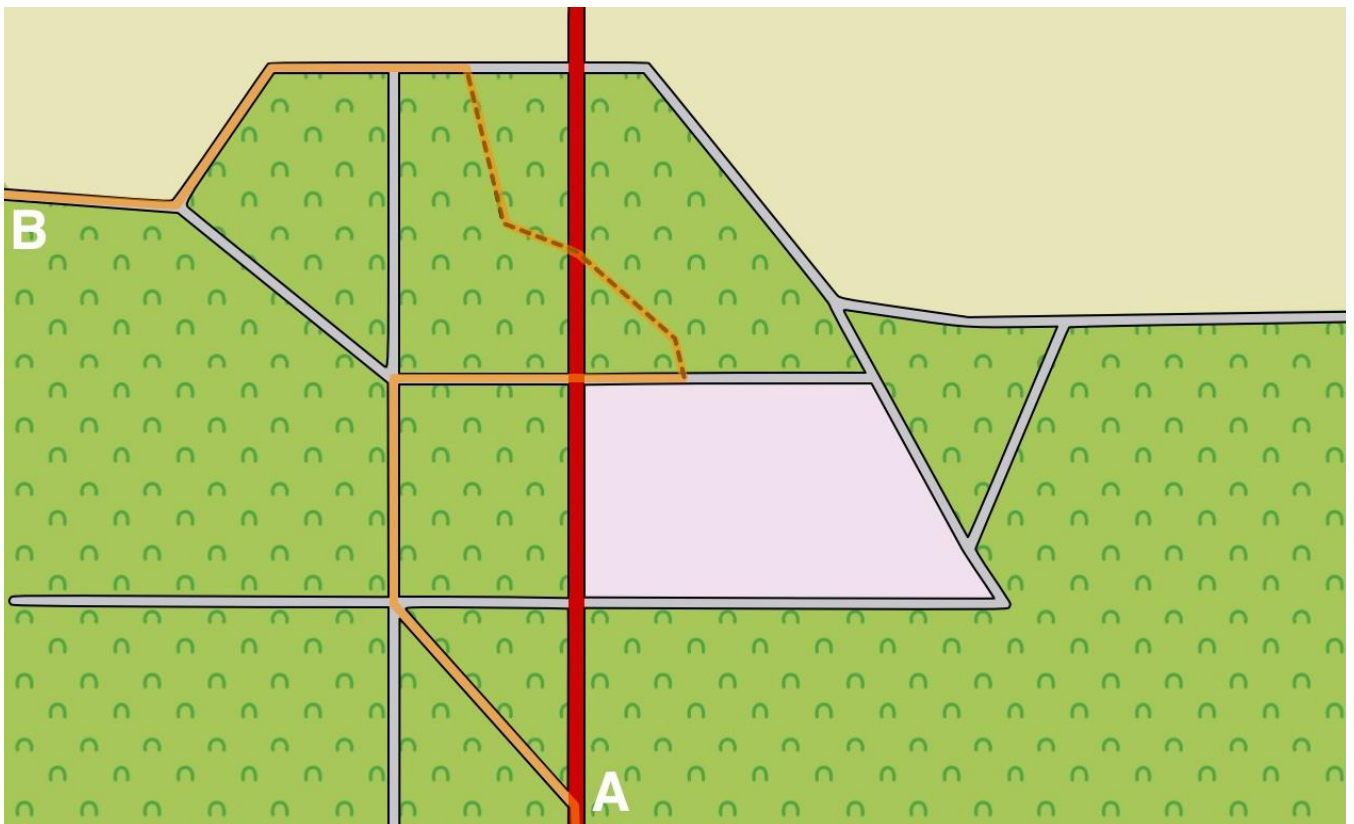
2. Laat een ander deze route weer opzoeken op de kaart.

5. BOLLETJE-/PIJLTJE ROUTE & KRUI SPUNTENROUTE

1. Op het onderstaande kaartje is met oranje een route ingetekend van A naar B. Maak voor deze route zelf een bolletje-pijltje-route.

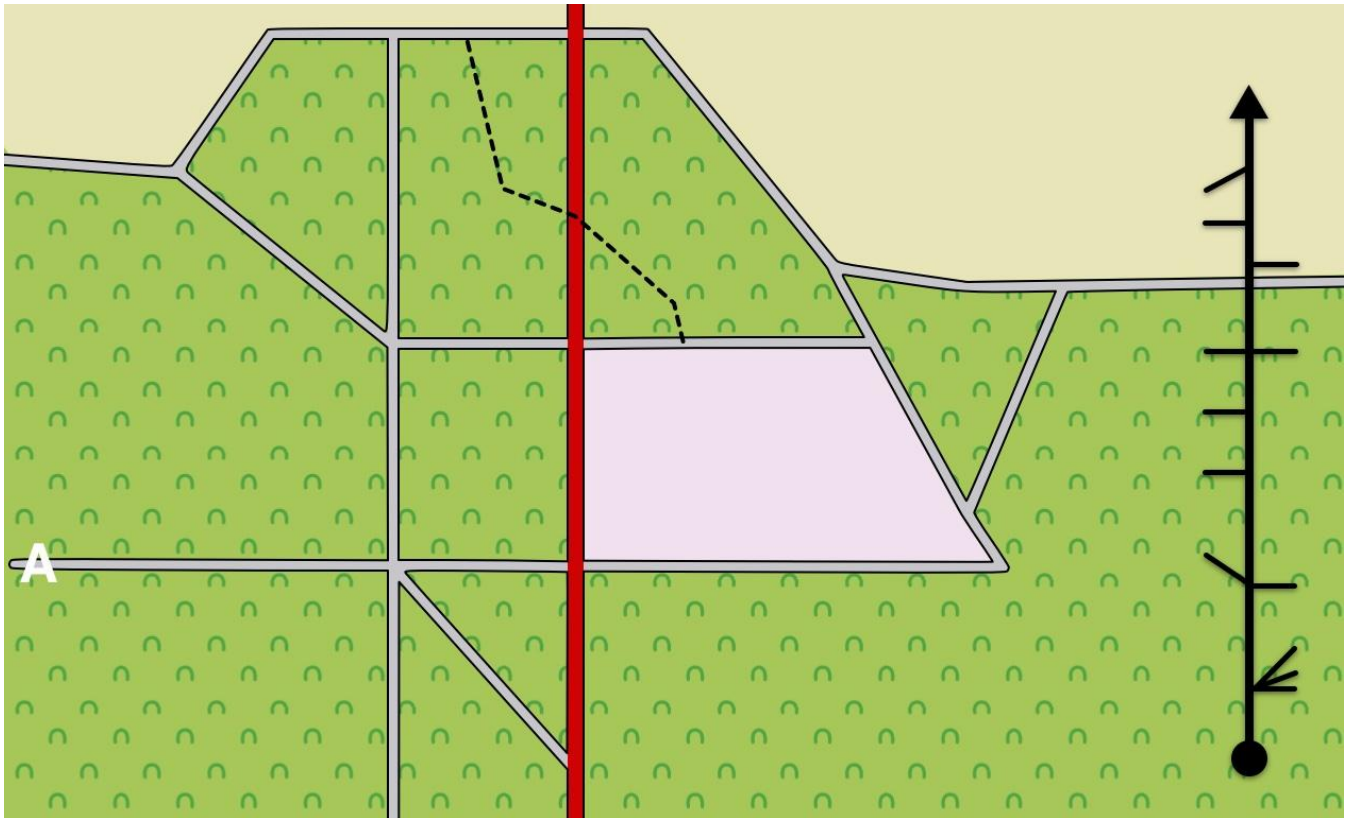


2. Op het onderstaande kaartje is met oranje een route ingetekend van A naar B. Maak voor deze route zelf een kruispuntenroute.



6. STRIPKAART

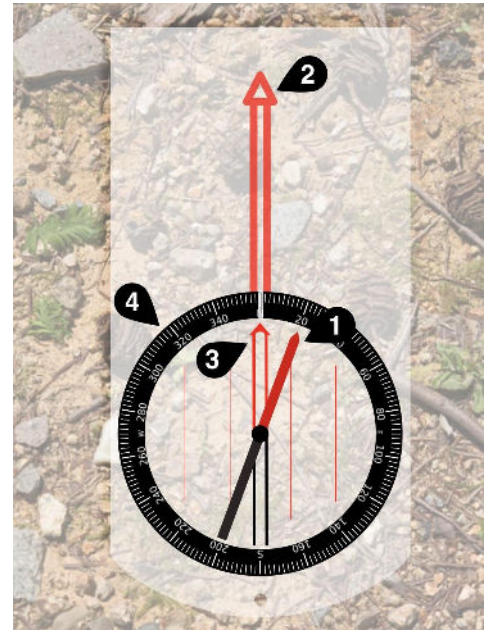
1. Voor de stripkaart gebruiken we hetzelfde kaartje als bij de kruispunten route en bolletje-pijltje. We beginnen weer bij de A en je loopt in oostelijke richting. Teken met een pen de route die je aflegt als je de stripkaart gebruikt.



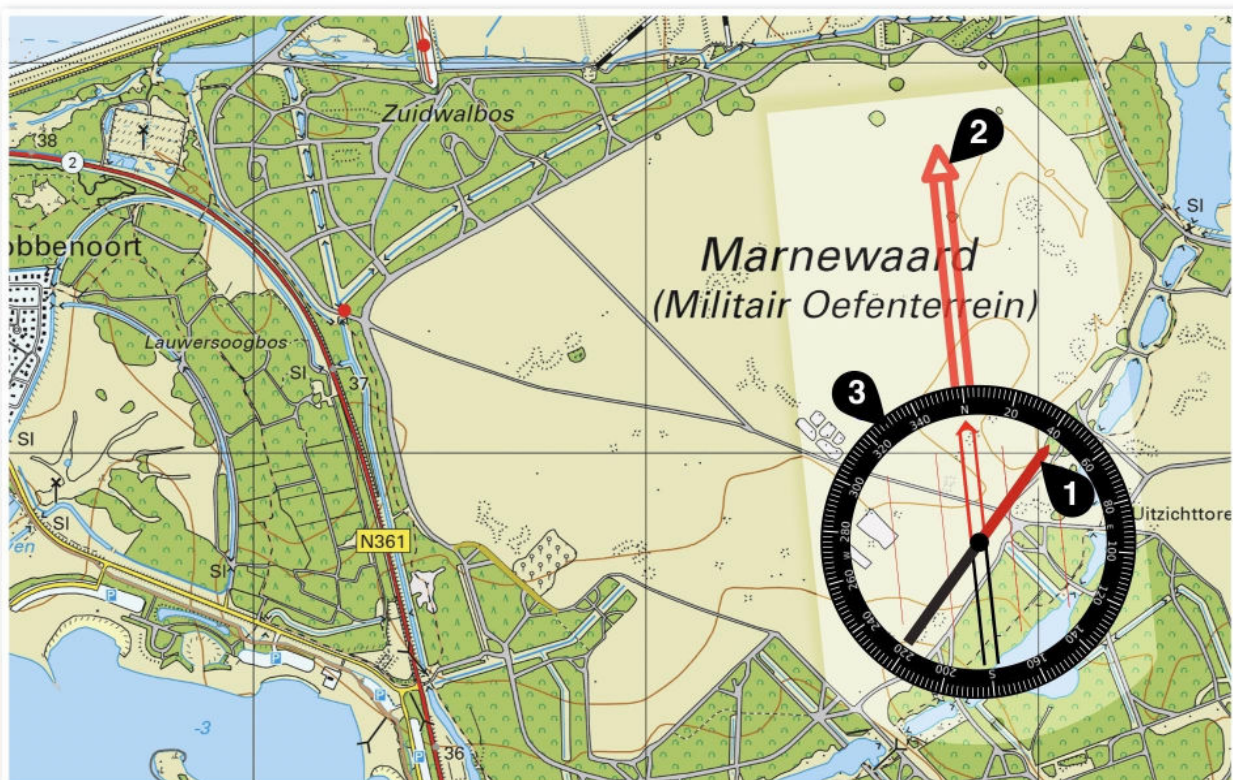
7. KOMPAS

1. Noem de genummerde onderdelen van het kompas hiernaast


1. _____
2. _____
3. _____
4. _____



2. Je hebt je kompas op een kaart gelegd. Je wilt om je beter te oriënteren de bovenkant van de kaart gelijk leggen aan het noorden. Wat moet je hiervoor doen? Omcirkel het juiste antwoord.
 - a) Het kompas en de kaart samen zo draaien dat de rode kant van de naald (1) gelijk is aan de bovenkant van de kaart.
 - b) Het kompas zo op de kaart draaien dat de richtingspijl (2) gelijk is aan de bovenkant van de kaart.
 - c) Draaien aan de zwarte graden ring (3) tot de N gelijk is aan de bovenkant van de kaart.



3. Op de route staat dat je 40 graden moet schieten. Op het voorbeeld hiernaast hebben we alvast de zwarte graden ring naar 40 graden gedraaid. Voor je de richtingspijl kan volgen moet je nog 1 ding doen, wat is dit ?



4. Bij de vorige vragen hebben we jullie nog aardig geholpen. Nu is het tijd om zelf een kompas te pakken en te kijken hoe die echt werkt. Schiet maar eens 162 graden! Wat zie je op 162 graden? Laat je leiding controleren.

Einde

Ontzettend leuk dat jullie alle opdrachten gemaakt hebben. We hopen dat jullie al veel geleerd hebben. Om alle routetechnieken echt onder de knie te krijgen, helpt het enorm om veel te oefenen. Je kunt bijvoorbeeld jullie groep in kleine groepjes verdelen en zelf een mini-hike uitzetten. De week daarna kan een ander groepje deze mini-hike dan weer gaan lopen. Er zijn eindeloos veel manieren om hier verder mee te oefenen, misschien hebben jullie zelf ook nog leuke ideeën.

Veel plezier met oefenen en tot op het NPK! Mochten jullie nu nog een brandende vraag hebben, waar ook de leiding geen antwoord op heeft, dan kun je ons altijd een mail sturen via scoutsstafnpk@gmail.com.

Groeten van de Scoutsstaf!